

Date : \_\_\_\_\_

## Problèmes dictés

1



Gribouille a caché ..... crayons



Arthur aura ..... crayons

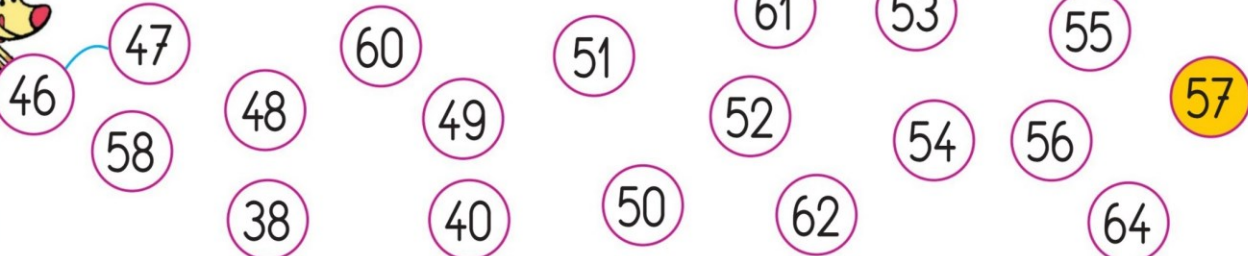


Zoé aura ..... crayons

## Nombres jusqu'à 59

2

Trace des traits entre les ronds pour aider Gribouille à atteindre 57.  
Les nombres doivent se suivre de 1 en 1.



3

Parmi ces nombres, il y en a cinq qui se suivent. Entoure-les.

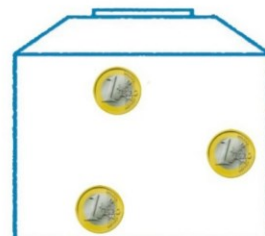
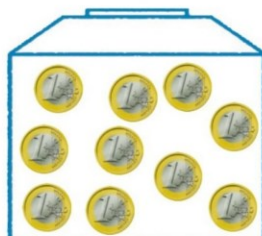
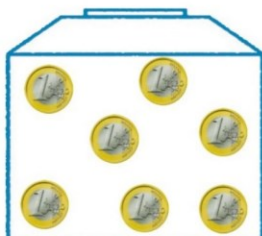
37 49 29 38 40  
51 35 39 41 50

## Monnaie : plus ou moins d'euros ?

4

Entoure **en rouge** la tirelire qu'Arthur peut échanger contre son billet.

Entoure **en vert** la tirelire que Zoé peut échanger contre tout son argent.



5

Entoure la tirelire de celui qui a le plus d'argent.

